



La vida de Mohamed

Mohamed se levanta a las 7 de la mañana y a las 7:45 está preparado para ir en bus al instituto. En su parada suben 18 personas, además de él. En la siguiente parada bajan 3 personas y suben 5. Después bajan 8. Luego, suben 2 y bajan 5. En la parada del instituto, bajan Mohamed y cuatro personas más, y suben 2. ¿Cuántas personas hay en el autobús cuando baja Mohamed?




Clase 3E 32 puntos
Clase 2B 12 puntos
Clase 4C 36 puntos
Clase 1D 20 puntos



Durante las clases Mohamed está contando las horas para volver a casa. Hoy, antes del recreo tiene Lengua. Está deseando que toque el timbre porque hoy hay partido. En la liga del instituto su equipo, la clase 2ºA, ganó 5 de ocho partidos, empató 1 y perdió 2. ¿Cuántos punto tiene su equipo? ¿En qué puesto de la clasificación están?

Después del recreo toca Matemáticas. Para pasar el tiempo quiere calcular cuántas horas y minutos faltan para irse a casa. Le pregunta a la profesora qué hora es y le responde que son las 12:35. ¿Cuántas horas y minutos quedan para que Mohamed se vaya a su casa?



$$-7 < 6 \quad 0 _ -3 \quad -5 _ -3$$

$$-2 _ -3 \quad -2 _ 0 \quad +2 _ -3$$

$$-2 - 3 = \quad (-12) : (-3) =$$

$$-2 + 3 = \quad -2 \cdot 3 =$$

$$-2 + 3 \cdot 2 = \quad 6 - 2 \cdot 7 =$$

$$6 : 2 - 7 = \quad 1 - 7 : 7 =$$

Por la tarde, Mohamed hace la tarea de matemáticas y luego va al parque a pasar un rato con sus amigos. Cuando vuelve para la cena se encuentra que su perro le ha roto la hoja con la tarea. Completa los huecos para ayudarlo a hacer la tarea otra vez

