

Matemáticas - ATAL 3

Alumn@:

Curso:

Fecha:

Ejercicio 1: Escribe con letras los siguientes números.

| | |
|-----|-----|
| 11: | 2: |
| 32: | 22: |
| 43: | 53: |
| 54: | 4: |
| 65: | 55: |
| 76: | 26: |
| 87: | 71: |
| 98: | 86: |
| 9: | 29: |
| 20: | 50: |
| 1: | 39: |
| 21: | 42: |
| 15: | 33: |
| 44: | 5: |
| 75: | 37: |
| 6: | 16: |
| 97: | 17: |
| 8: | 18: |

Ejercicio 2: Une con flechas

- Veinte
- Ochenta y nueve
- Cinco
- Cuarenta y seis
- Noventa y uno
- Setenta y siete
- Dieciséis
- Once
- Veintidós
- Sesenta y nueve
- Catorce
- 5
- 91
- 16
- 89
- 14
- 77
- 46
- 20
- 69
- 22
- 11

Ejercicio 3: Une con flechas


- Dos más tres
- Cuatro menos uno
- Cinco por seis
- Cuarenta menos once
- Noventa dividido de dos
- Setenta más trece
- Dieciséis dividido de ocho
- Once por 5
- Veintidós menos siete
- Sesenta más nueve
- Catorce dividido de siete
- 40 - 11
- 5 · 6
- 4 - 1
- 2 + 3
- 14 : 7
- 22 - 7
- 11 · 5
- 90 : 2
- 70 + 13
- 16 : 8
- 60 + 9

Ejercicio 4: Une con flechas

- 2 · 3
- 4 · 5
- 6 : 2
- 20 : 5
- 2 · 6
- 3 · 7
- 12 : 6
- 21 : 3
- 7
- 2
- 21
- 12
- 4
- 3
- 20
- 6


Ejercicio 5: ¿Cuántos hay en total?

Manzanas



TOTAL =

Coches




TOTAL =

Bolsas



TOTAL =

Balones




TOTAL =



Ejercicio 6: Resuelve

Manzanas

Hay 15 

Me como 8 

¿Cuántas quedan?

Coches

Hay 30 

Se rompen 20

¿Cuántos quedan?

Caramelos

Tengo 18 

Comparto 7 con mi
amiga

¿Cuántos quedan?

Euros

Tengo 50 

Me gasto 35

¿Cuánto me queda?

Platos

Hay 37 

Compro 15 más

¿Cuántos hay?

Euros

Tengo 50 

Me dan 15€ más

¿Cuántos tengo?

Ejercicio 7: Resuelve

- a) Meryem tiene 8 euros y ha gastado 3 euros, ¿cuánto le queda?

- b) Mohamed tiene 8 balones y se rompe uno, ¿cuántos balones le quedan?

- c) María tiene 2 platos y compra 7 platos más, ¿cuántos tiene en total?

- d) Pablo tiene 3 manzanas y compra dos más, ¿cuántas manzanas tiene en total?

- e) Sara tiene 8 caramelos y comparte 4 con su amiga, ¿cuántos caramelos le quedan?

- f) Hay 17 coches y se rompen 7, ¿cuántos quedan?

- g) Tengo 15 euros y me gasto 4, ¿cuántos euros me quedan?

- h) Habían 12 manzanas y se han comido 8, ¿cuántas quedan?

- i) Hay 16 balones y se compran 7 más, ¿cuántos hay en total?

Ejercicio 8: Une con flechas

- Tengo 8 caramelos y compro 3 más
 - Hay 20 coches y se rompen 5
 - Tengo 5 euros y me gasto 2
 - Tengo 12 euros y me dan 7 más
 - Tengo 20 caramelos y compro 5 más
 - Hay 8 coches y se rompen 3
 - Tengo 12 euros y me gasto 7
 - Tengo 5 euros y me dan 2 más
- $12 - 7$
 - $8 + 3$
 - $5 - 2$
 - $20 - 5$
 - $8 - 3$
 - $5 + 2$
 - $12 + 7$
 - $20 + 5$

Ejercicio 9: Resuelve

- Tengo 8 caramelos y compro 3 más, ¿cuántos tengo en total?
- Hay 20 coches y se rompen 5, ¿cuántos quedan?
- Tengo 5 euros y me gasto 2, ¿cuánto me quedan?
- Tengo 12 euros y me dan 7 más, ¿cuánto tengo en total?
- Tengo 20 caramelos y compro 5 más, ¿cuántos tengo en total?
- Hay 8 coches y se rompen 3, ¿cuántos quedan?
- Tengo 12 euros y me gasto 7, ¿cuántos me queda?
- Tengo 5 euros y me dan 2 más, ¿cuánto tengo en total?