

## Repaso fracciones

Alumn@:

Curso:

Fecha:

### Ejercicio 1. Escribe cómo se leen las siguientes fracciones

$\frac{1}{2}$		$\frac{9}{10}$	
$\frac{1}{4}$		$\frac{4}{7}$	
$\frac{3}{4}$		$\frac{6}{8}$	
$\frac{1}{5}$		$\frac{3}{10}$	
$\frac{3}{5}$		$\frac{1}{7}$	
$\frac{3}{6}$		$\frac{5}{9}$	
$\frac{5}{8}$		$\frac{6}{7}$	
$\frac{6}{10}$		$\frac{1}{3}$	
$\frac{7}{10}$		$\frac{3}{7}$	
$\frac{2}{3}$		$\frac{1}{10}$	
$\frac{4}{5}$		$\frac{1}{8}$	
$\frac{5}{6}$		$\frac{2}{5}$	
$\frac{7}{8}$		$\frac{1}{9}$	

## Ejercicio 2. Escribe con números

- a. Un medio
- a. Tres cuartos
- b. Un quinto
- c. Tres quintos
- d. Cinco octavos
- e. Seis décimos
- f. Siete décimos
- g. Dos tercios
- h. Cuatro quintos
- i. Cinco sextos
- j. Siete octavos
- k. Nueve décimos
- l. Cuatro séptimos
- m. Seis octavos
- n. Tres décimos

### Ejercicio 3. Dibuja y colorea según se indica

1. Divide la figura en **2 partes iguales** y pinta **1**.



2. Divide la figura en **4 partes iguales** y pinta **1**.




3. Divide la figura en **5 partes iguales** y pinta **3**.




4. Divide la figura en **6 partes iguales** y pinta **3**.




5. Divide la figura en **8 partes iguales** y pinta **5**.




6. Divide la figura en **2 partes iguales** y pinta **1**.



7. Divide la figura en **10 partes iguales** y pinta **7**.




8. Divide la figura en **3 partes iguales** y pinta **2**.




9. Divide la figura en **5 partes iguales** y pinta **4**.




10. Divide la figura en **6 partes iguales** y pinta **5**.



11. Divide la figura en **8 partes iguales** y pinta **7**.



12. Divide la figura en **10 partes iguales** y pinta **9**.



13. Divide la figura en **4 partes iguales** y pinta **3**.

14. Divide la figura en **7 partes iguales** y pinta **4**.

15. Divide la figura en **9 partes iguales** y pinta **6**.

**Ejercicio 4. Escribe la fracción de cada dibujo anterior con números y con letras**

	<b>Con números</b>	<b>Cómo se lee</b>
<b>1.</b>		
<b>2.</b>		
<b>3.</b>		
<b>4.</b>		
<b>5.</b>		
<b>6.</b>		
<b>7.</b>		
<b>8.</b>		
<b>9.</b>		
<b>10.</b>		
<b>11.</b>		
<b>12.</b>		
<b>13.</b>		
<b>14.</b>		
<b>15.</b>		

**Ejercicio 5. Escribe cómo se leen y haz el dibujo**

a.  $\frac{1}{2}$

a.  $\frac{1}{4}$

b.  $\frac{3}{5}$

c.  $\frac{5}{8}$

d.  $\frac{7}{10}$

e.  $\frac{2}{3}$

f.  $\frac{4}{5}$

g.  $\frac{5}{6}$

h.  $\frac{7}{8}$

i.  $\frac{9}{10}$

j.  $\frac{3}{4}$

k.  $\frac{6}{8}$

l.  $\frac{4}{7}$